



# Soluciones

Semana del 25 al 29 de mayo

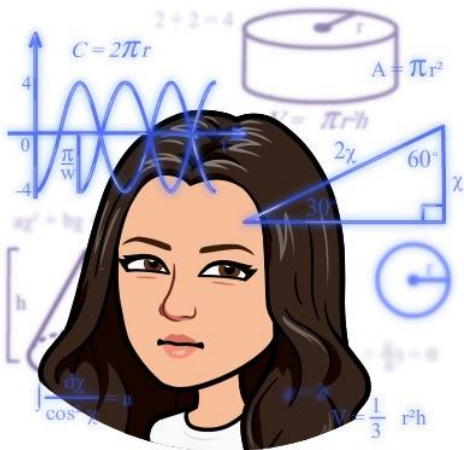
**¡Hola 3º!** Os dejo aquí las [soluciones de las actividades](#) que habéis realizado la semana pasada. Ya sabéis, bolígrafo rojo ¡y a corregir!

Fijaros en la fecha y el ejercicio en el que os he escrito la respuesta directamente.

Las actividades que ponen *respuesta libre*, las revisaré yo en cuanto volvamos al cole y os recoja las libretas, porque cada uno tendrá escrito algo diferente.

Algunas operaciones del cálculo os aparecerán de manera más esquemática por el tema de hacerlas en el ordenador. Fijaos en que el resultado esté bien.

¡¡¡Un besazo a todossssssss!!!



La profe Paula

# LENGUA

25/05/2020

1.

Lapiz -> **lá** - piz

Melón -> me - **lón**

Tractor -> trac - **tor**

Café -> ca - **fé**

Ratón -> ra - **tón**

Página -> **pá** - gi - na

Menta -> **men** - ta

Campana -> cam - **pa** - na

Sofá -> so - **fá**

Nadar -> na - **dar**

Fútbol -> **fút** - bol

Playa -> **pla** - ya

Sábado -> **sá** - ba -do

Tiburón -> ti - bu - **rón**

Castillo -> cas - **ti** - llo

**27/05/2020**

### **Comprender una carta**

1. La carta se ha escrito en Barcelona.
2. La carta la ha escrito José Luis.
3. La carta se ha escrito el 20 de noviembre.
4. La carta va dirigida a Julián, un amigo de José Luis.
5. La Sagrada Familia es la iglesia más bonita de Barcelona.
6. Julián y José Luis fueron juntos de excursión a Santiago de Compostela.

**28/05/2020**

**2.**

Canario - canelón - dragón - pardo

Cepillo - revista - rueda - setenta

Endibia - fuerte - queso - resumen

**3.**

1º Manzana

2º Naranja

3º Pera

4º Piña

5º Plátano

29/05/2020

1.

Luisa, Mariola y Fede van a venir a jugar esta tarde a casa.

Mi madre nos ha preparado la merienda con sándwiches, patatas fritas, bebidas y pastelitos de postre.

2.

En mi cartera tengo: libretas, lápices, goma, tajalápiz, y libros.

Tengo los libros de: matemáticas, lengua y conocimiento del medio.

3.

Los nombres de mis amigos son los siguientes (*respuesta libre*):

Pelayo, Elena, Juan, Susana, María y David.

Los días de la semana son los siguientes: lunes, martes, miércoles, jueves, viernes, sábado y domingo.

## MATEMÁTICAS

25/05/2020

1. (*Os lo pongo en horizontal pero vosotros tenéis que hacerlo como los hacíamos siempre en clase*)

$$32 + 49 \rightarrow 30 + 50 = 80$$

$$57 + 24 \rightarrow 60 + 20 = 80$$

$$88 + 51 = 90 + 50 = 140$$

$$279 + 120 \rightarrow 300 + 100 = 400$$

$$567 + 340 \rightarrow 600 + 300 = 800$$

$$735 + 910 \rightarrow 700 + 900 = 1.600$$

$$1.280 + 2.960 \rightarrow 1.000 + 3.000 = 4.000$$

$$4.580 + 6.210 \rightarrow 5.000 + 6.000 = 11.000$$

$$7.390 + 8.610 \rightarrow 7.000 + 9.000 = 16.000$$

**2.**

*¿Cuántos kilos aproximadamente pesan juntas la moto roja y azul?*

$$18 + 21 \rightarrow 20 + 20 = 40 \text{ kilos pesan aproximadamente.}$$

*¿Cuántos kilos aproximadamente pesan juntos el coche verde y el amarillo?*

$$385 + 230 \rightarrow 400 + 200 = 600 \text{ kilos pesan aproximadamente.}$$

**26/05/2020**

**1.**

$$43 - 28 \rightarrow 40 - 30 = 10$$

$$87 - 53 \rightarrow 90 - 50 = 40$$

$$569 - 136 \rightarrow 600 - 100 = 500$$

$$741 - 283 \rightarrow 700 - 300 = 400$$

$$3.876 - 2.350 \rightarrow 4.000 - 2.000 = 2.000$$

$$6.450 - 2.910 \rightarrow 6.000 - 3.000 = 3.000$$

**2.**

- **¿Cuántos centímetros mide Pablo menos que Ana?**

$178 - 145 = 33$  centímetros menos mide Pablo.

- **¿Cuántos centímetros aproximadamente mide Pablo menos que Ana?**

$180 - 150 = 30$  centímetros aproximadamente mide Pablo menos que Ana.

- **¿Cuántos centímetros aproximadamente mide Inés más que Luis?**

$94 - 82 \rightarrow 90 - 80 = 10$  centímetros aproximadamente mide Inés más que Luis

**28/05/2020**

**1.**

$$32 \times 4 \rightarrow 30 \times 4 = 120$$

$$67 \times 6 \rightarrow 70 \times 6 = 420$$

$$91 \times 7 \rightarrow 90 \times 7 = 630$$

$$189 \times 3 \rightarrow 200 \times 3 = 600$$

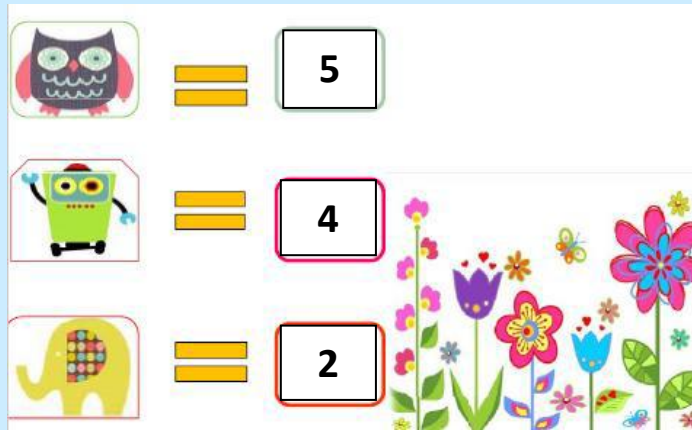
$$440 \times 5 \rightarrow 400 \times 5 = 2.000$$

$$290 \times 8 \rightarrow 300 \times 8 = 2.400$$

$$2.789 \times 2 \rightarrow 3.000 \times 2 = 6.000$$


$$5.360 \times 9 \rightarrow 5.000 \times 9 = 45.000$$

$$7.670 \times 5 \rightarrow 8.000 \times 5 = 40.000$$




## SCIENCES

25/05/2020



29/05/2020



flowers

tree

bush

## SOCIALES

26/05/2020

- 1. ¿Qué es el Sol?** El Sol es un cuerpo del espacio llamado estrella. Tiene luz propia y caliente. Pertenece al sistema solar y todos los planetas giran alrededor de él.
- 2. ¿Qué es la Tierra?** La Tierra es nuestro planeta y gira alrededor del Sol.
- 3. ¿Cuáles son los planetas que forman el sistema solar?** Mercurio, Venús, Tierra, Marte, Jupiter, Saturno, Urano y Neptuno.  
(¡¡Tienes que sabértelos de memoria!!)